

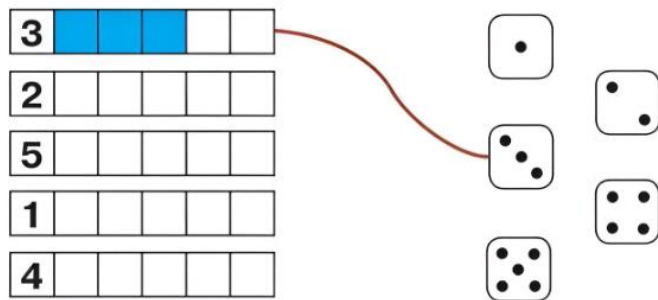
Инструкция к выполнению заданий

1. Распечатайте задание индивидуально для каждого ребенка.
2. Прочитайте задание ребенку.
3. Ребенок должен выполнить задание самостоятельно или при помощи наводящих вопросов.

<div data-bbox="164 678 248 768" data-label="Text"> <p>1</p> </div>	<p data-bbox="296 658 1430 775">Положи в вазочку, стоящую справа, столько одинаковых печений, сколько показывает число на вазе. В вазочку, которая стоит слева, положи столько же разных печений.</p> <div data-bbox="466 880 1275 1162" data-label="Image"> </div> <p data-bbox="296 1225 1337 1254">© Межрегиональный центр дополнительного образования «ЛУЧ» https://mcdobr.ru/</p>
<div data-bbox="164 1319 248 1408" data-label="Text"> <p>2</p> </div>	<p data-bbox="296 1290 1182 1323">Дорисуй предметы так, чтобы все они стали одинаковыми.</p> <div data-bbox="517 1449 1236 1841" data-label="Image"> </div> <p data-bbox="296 1991 1337 2020">© Межрегиональный центр дополнительного образования «ЛУЧ» https://mcdobr.ru/</p>

3

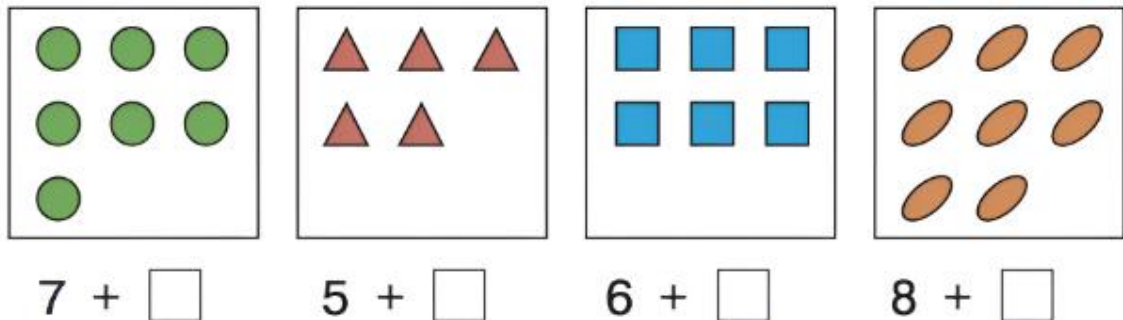
Раскрась столько клеток, сколько показывает число в начале строки.
Соедини полоски с кубиками.



© Межрегиональный центр дополнительного образования «ЛУЧ» <https://mcdobr.ru/>

4


Дополни до 9, допиши фигуры и цифры.



© Межрегиональный центр дополнительного образования «ЛУЧ» <https://mcdobr.ru/>

5


На каждой яблоне раскрась столько яблок, сколько показывает число внизу.



© Межрегиональный центр дополнительного образования «ЛУЧ» <https://mcdobr.ru/>

6

Вставь пропущенные знаки.

$\square\square\square\square$	\square	$\square\square$	$=$	$\square\square$	
$\bigcirc \star \star$	\square	\bigcirc	$=$	$\bigcirc \bigcirc \star \star$	
$\otimes \bigcirc \triangle \triangle \triangle$	\square	$\otimes \triangle \triangle$	$=$	$\bigcirc \triangle$	
$\bullet \bullet \bullet$	\square	$\bullet \bullet$	$=$	$\bullet \bullet \bullet \bullet \bullet$	

© Межрегиональный центр дополнительного образования «ЛУЧ» <https://mcdobr.ru/>

